


Meter, Zentimeter und Millimeter

1 Was passt zusammen? Verbinde.



2 Runde auf volle m. Kreise in der richtigen Farbe ein.




1,7 m 2,56 m 3,192 m 2,08 m 0,79 m 3,4 m
 2,631 m 3,072 m 1,177 m 0,56 m 1,95 m

3 Schreibe in die Stellenwerttafel. Schreibe in cm und rechne dann in mm um.

	m	cm			
a)	2,56 m		2,56 m =	_____ cm =	_____ mm
	9,74 m		9,74 m =	_____ cm =	_____ mm
	1,35 m		1,35 m =	_____ cm =	_____ mm
	0,47 m		0,47 m =	_____ cm =	_____ mm

4 Rechne zuerst den Überschlag. Rechne dann genau.

2 596 mm + 438 mm 396,5 cm - 98,2 cm 4,265 m - 1,63 m
 Ü: _____ Ü: _____ Ü: _____



2.635 27.42 298.3 3.034

Meter, Zentimeter und Millimeter

1 a)

m	7 m	5 m		2 m	9 m		10 m
cm	700 cm		400 cm			800 cm	

b)

m und cm	9 m 34 cm	1 m 76 cm			8 m 52 cm
cm	934 cm		418 cm	537 cm	

2 Schreibe in die Stellenwerttafel. Ergänze die Null.

a)

	m	cm
3 m 5 cm	3	05
9 m 2 cm		
5 m 8 cm		
6 m 4 cm		
1 m 9 cm		

b)

	m	cm
17 m 3 cm		
42 m 5 cm		
36 m 9 cm		
19 m 8 cm		
54 m 2 cm		

c)

	m	cm
76 m 4 cm		
23 m 1 cm		
15 m 7 cm		
49 m 6 cm		
18 m 3 cm		

3 Schreibe in die Stellenwerttafel und ergänze die Null. Rechne in m um.

a)








	m	cm
7 m 1 cm		
3 m 4 cm		
1 m 2 cm		
8 m 7 cm		
9 m 5 cm		

b)

	m	cm
71 m 6 cm		
14 m 8 cm		
99 m 4 cm		
53 m 1 cm		
26 m 7 cm		

4 Wie lang sind die Strecken?

Gib die Längen in drei verschiedenen Schreibweisen an.

	mm	cm und mm	cm
a) 	27 mm	2 cm 7 mm	2,7 cm
b) 			
c) 			
d) 			
e) 			
f) 			
g) 			

Kilometer und Meter

1 Was passt zusammen? Verbinde.



1 200 km

800 km

30 km

7 400 km



2 Runde auf volle km. Kreise in der richtigen Farbe ein.



15 km

16 km

17 km

16,387 km

16,516 km

14,884 km

15,207 km

16,904 km

15,797 km

16,380 km

15,099 km

3 Schreibe in die Stellenwerttafel und ergänze die Nullen. Rechne in m um.



a)

km	m
12	55
3	94
25	7
80	6

b)

km	m
60	400
8	30
44	4
9	90

4 Rechne zuerst den Überschlag. Rechne dann genau.



$4,250 \text{ km} - 2,980 \text{ km}$

$5,640 \text{ km} + 17,395 \text{ km}$

$34,058 \text{ km} - 17,951 \text{ km}$

Ü: _____

Ü: _____

Ü: _____

km	m

km	m

km	m

☞ 1,270 km 12,710 km 16,107 km 23,035 km

Kilometer und Meter

1	km	7 km	4 km		8 km	10 km
□	m	7 000 m		3 000 m	2 000 m	5 000 m

km	6,584 km	1,439 km		8,281 km
km und m	6 km 584 m		2 km 175 m	9 km 340 m

2 Schreibe in die Stellenwerttafel.

a)	km	m	b)	km	m
8 350 m			2,503 km		
1 004 m			3,042 km		
5 309 m			1,009 km		

3 Schreibe in die Stellenwerttafel und rechne in km um.

a)	km	m	b)	km	m
2 400 m			1 549 m		
7 023 m			1 600 m		
5 430 m			1 060 m		
3 060 m			1 006 m		

4 Schreibe in die Stellenwerttafel. Ergänze die Nullen.

a)	km	m	b)	km	m
2 km 65 m			3 km 7 m		
5 km 37 m			1 km 9 m		
9 km 81 m			8 km 4 m		
4 km 14 m			6 km 2 m		

5 Schreibe in die Stellenwerttafel und ergänze die Nullen. Rechne in km um.

a)	km	m	b)	km	m
3 km 14 m			4 km 1 m		
5 km 93 m			9 km 2 m		
8 km 62 m			1 km 6 m		
7 km 29 m			3 km 8 m		